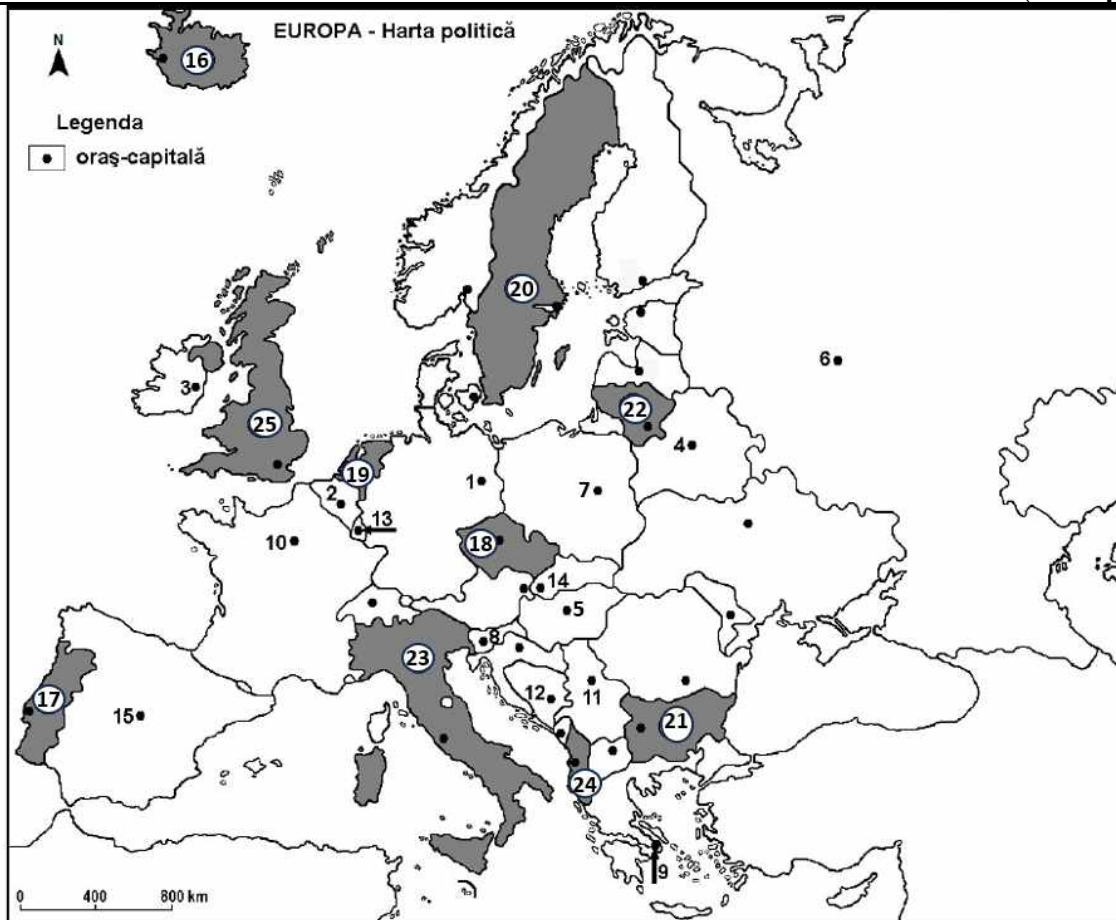


**Examenul național de bacalaureat 2025
Simulare județeană
Proba E. d) - Geografie****Varianta 1**

Profilul umanist din filiera teoretică, profilul servicii din filiera tehnologică și toate profilurile și specializările din filiera vocațională, cu excepția profilului militar

- Toate subiectele sunt obligatorii. Se acordă zece puncte din oficiu.
- Timpul de lucru efectiv este de trei ore.

SUBIECTUL I**(30 de puncte)**

Harta de mai sus se referă la subiectul I A – D. Pe hartă sunt marcate orașe-capitală cu numere de la 1 la 15 și state cu numere de la 16-25.

A. Precizați:

1. numele orașului-capitală marcat, pe hartă, cu numărul 15;
2. numele statului marcat, pe hartă, cu numărul 22 .

4 puncte

B. Scrieți, pe foaia de examen, răspunsurile corecte care completează afirmațiile de mai jos:

1. Orașul-capitală marcat, pe hartă, cu numărul 3 se numește ...
2. Statul marcat, pe hartă, cu numărul 17 se numește ...
3. Fluviul Vistula traversează orașul-capitală marcat, pe hartă, cu numărul ...

6 puncte

Probă scrisă la Geografie

Varianta 1

Profilul umanist din filiera teoretică, profilul servicii din filiera tehnologică și toate profilurile și specializările din filiera vocațională, cu excepția profilului militar

C. Scrieți, pe foaia de examen, **doar litera** corespunzătoare răspunsului corect pentru fiecare dintre afirmațiile de mai jos:

1. Orașul-port Rotterdam este situat în statul marcat, pe hartă, cu numărul:
 a. 16 b. 18 c. 19 d. 22 **2 puncte**
2. Resurse însemnate de minereu de fier se exploatează în statul marcat, pe hartă, cu numărul:
 a. 17 b. 18 c. 19 d. 20 **2 puncte**
3. Vulcani activi există în statul marcat, pe hartă, cu numărul:
 a. 16 b. 18 c. 22 d. 25 **2 puncte**
4. Cel mai mare oraș ca număr de locuitori, din Europa este marcat, pe hartă, cu numărul:
 a. 2 b. 4 c. 6 d. 8 **2 puncte**
5. Este monarhie constituțională statul marcat, pe hartă, cu numărul :
 a. 20 b. 21 c. 22 d. 23 **2 puncte**

D. Prezentați trei deosebiri între **clima** statului marcat, pe hartă, cu numărul **16** și **clima** statului marcat, pe hartă, cu numărul **23**.

Nota 1: Deosebirile se pot referi la oricare dintre următoarele elemente de climă: factori genetici, tip de climă, temperaturi medii anuale/vara/iarna, amplitudine termică, precipitații medii anuale/vara/iarna, vânturi cu frecvență ridicată, alte aspecte climatice.

Nota 2: Punctajul complet va fi acordat numai dacă deosebirile vor fi prezentate comparativ și nu separat.

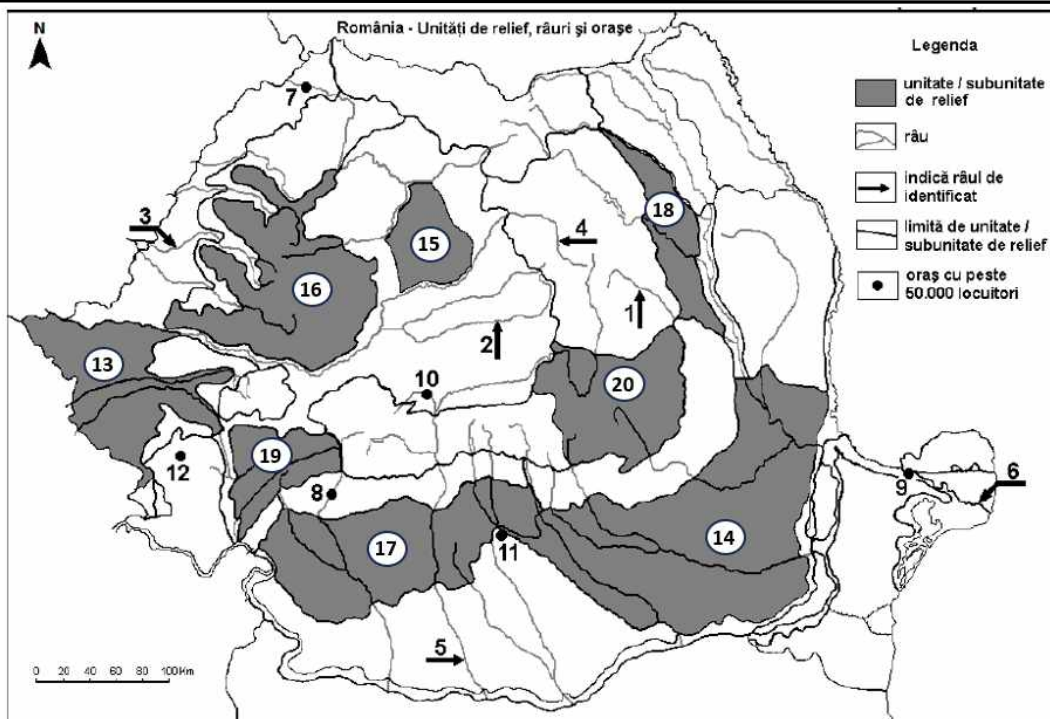
Nota 3: Nu este necesară precizarea numelor statelor, se poate face referire la statele respective cu numerele cu care sunt marcate pe hartă. **6 puncte**

E. Precizați:

1. un factor natural care a determinat formarea lacurilor glaciare din nordul Europei.
2. numele a două state care s-au desprins din fosta RSF Iugoslavia, după anul 1990. **4 puncte**

SUBIECTUL al II-lea

(30 de puncte)



Harta de mai sus se referă la subiectul II A – E. Pe hartă sunt marcate râuri cu numere de la 1 la 6, orașe cu numere de la 7 la 12 și unități de relief cu numere de la 13 la 20.

Probă scrisă la Geografie

Varianta 1

Profilul umanist din filiera teoretică, profilul servicii din filiera tehnologică și toate profilurile și specializările din filiera vocațională, cu excepția profilului militar

A. Precizați:

1. numele orașului marcat, pe hartă, cu numărul **9**;
2. numele râului marcat, pe hartă, cu numărul **4**.

4 puncte**B. Scrieți, pe foaia de examen, răspunsurile corecte care completează afirmațiile de mai jos:**

1. Brațul Dunării marcat, pe hartă, cu numărul **6** se numește ...
2. Este străbătut de un afluent al râului Olt, orașul marcat, pe hartă, cu numărul ...
3. În Subcarpații Getici este situat orașul marcat, pe hartă, cu numărul...

6 puncte**C. Scrieți, pe foaia de examen, doar litera** corespunzătoare răspunsului corect pentru fiecare dintre afirmațiile de mai jos:

1. Relief glaciar s-a format în unitatea de relief marcată, pe hartă, cu numărul:
a. 16 b. 18 c. 19 d. 20 **2 puncte**
2. Influențe climatice oceanice pătrund în unitatea de relief marcată, pe hartă, cu numărul:
a. 14 b. 15 c. 17 d. 18 **2 puncte**
3. Cea mai întinsă depresiune intracarpatică din România se află în unitatea de relief marcată, pe hartă, cu numărul:
a. 13 b. 16 c. 18 d. 20 **2 puncte**
4. Bazinul carbonifer Motru-Rovinari se află în unitatea de relief marcată, pe hartă, cu numărul:
a. 14 b. 15 c. 17 d. 18 **2 puncte**
5. Vegetația de silvostepă este caracteristică în unitatea de relief marcată, pe hartă, cu numărul:
a. 13 b. 16 c. 19 d. 20 **2 puncte**

D. Prezentați trei deosebiri între reliefurile unității marcate, pe hartă, cu numărul 15 și reliefurile unității marcate, pe hartă, cu numărul 16.

Nota 1: Deosebirile se pot referi la oricare dintre următoarele aspecte ale reliefului: mod de formare, categorii/tipuri de roci pe care s-a format relieful, altitudini, gradul de fragmentare, trepte de relief, tipuri genetice de relief, orientarea culmilor și a văilor principale, dispunerea depresiunilor, alte aspecte specifice ale reliefului.

Nota 2: Punctajul complet va fi acordat numai dacă cele trei deosebiri vor fi prezentate comparativ și nu separat.

Nota 3: Nu este necesară precizarea numelor unităților de relief, se poate face referire la unitățile de relief respective cu numerele cu care sunt marcate pe hartă.

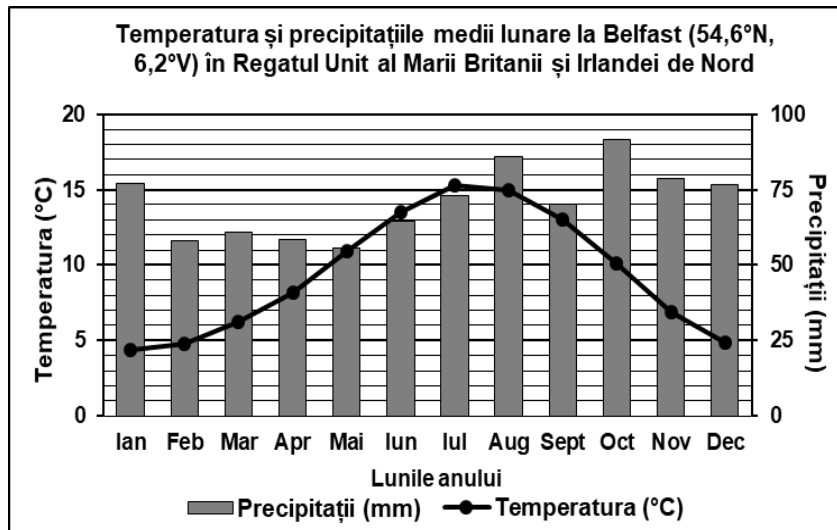
6 puncte**E. Prezentați:**

1. o cauză a înregistrării secetelor mai frecvente în unitatea de relief marcată, pe hartă, cu numărul **14**.
2. un factor care generează frecvente procese de versant (alunecări, torenți) în unitatea de relief marcată, pe hartă, cu numărul **18**.

4 puncte

SUBIECTUL al III-lea
(30 de puncte)

Reprezentarea grafică de mai jos se referă la subiectul III A-B și prezintă temperatura și precipitațiile medii lunare la stația meteorologică din Belfast, Regatul Unit al Marii Britanii și Irlandei de Nord.



Sursa: Global Historical Climatology Network

A. Precizați:

1. valoarea maximă a precipitațiilor medii lunare, precum și luna în care se înregistrează;
2. valoarea maximă a temperaturii medii lunare, precum și luna în care se înregistrează.

4 puncte
B. 1. Calculați amplitudinea termică medie anuală.

2. Calculați diferența dintre cantitatea maximă și cea minimă de precipitații medii lunare.
3. Prezentați o cauză a înregistrării cantității mari de precipitații medii anuale de la Belfast.

6 puncte
C. Pentru Peninsula Balcanică, precizați:

1. denumirea a două unități de relief;
2. o zonă/tip de vegetație;
3. un tip de sol;
4. denumirea a trei state;
5. denumirea a trei orașe.

10 puncte

D. În tabelul de mai jos sunt reprezentate rata natalității (‰) și rata mortalității (‰) populației din România, înregistrate în perioada 1956 - 2004.

Anul	Natalitate	Mortalitate
1956	24,2 ‰	9,9 ‰
1977	19,6 ‰	9,6 ‰
2008	10,3 ‰	11,8 ‰

1. Calculați valoarea bilanțului (sporului) natural în anul 1956.
2. Calculați diferența dintre ratele natalității din anii 1977 și 2008.
3. Precizați o cauză a înregistrării valorii bilanțului (sporului) natural în anul 2008.

6 puncte
E. Prezentați două caracteristici ale apelor Mării Negre.
4 puncte

Probă scrisă la Geografie

Varianta 1

Profilul umanist din filiera teoretică, profilul servicii din filiera tehnologică și toate profilurile și specializările din filiera vocațională, cu excepția profilului militar